



Green-Schools

An Taisce

diabann taistil

Scoil/Rang: _____

An méid scolairí: _____

Roghnaigh ceann de na modhanna taistil thíos i gcóir an dúshláin

agsiúl




ag rothaiocht

ag dul ar scutar

ag roinnt carr

bus

pairceail agus siúl

Lá 1: __/02/17 	Lá 2	Lá 3	Lá 4	Lá 5: __/02/17 
Lá 6	Lá 7	Lá 8	Lá 9	Lá 10: __/02/17 

Líon isteach sa tabla thuas an méid scolairí a thaistealaíonn ar scoil ag úsáid a modh roghnaithe gach lá